

prénom :

date :



Représenter les nombres de 1 à 10

- **Ecris le nombre qui convient.**

Exercice 1

Exercice 2

Exercice 3

Exercice 4

Exercice 5

Exercice 6

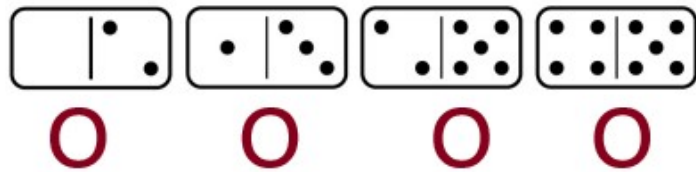
prénom :

date :

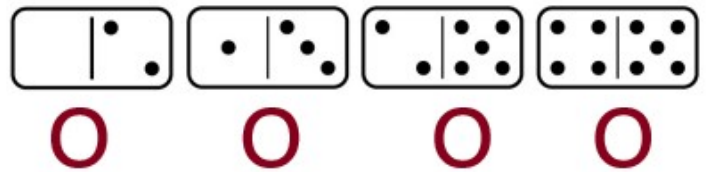


Représenter les nombres de 1 à 10

- Coche le nombre : 4.




- Coche le nombre : 9.



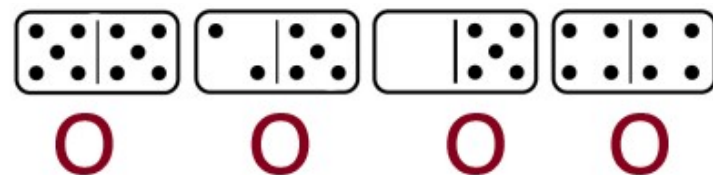
- Coche le nombre : 6.



- Coche le nombre : 3.



- Coche le nombre : 8.



- Coche le nombre : 7.

